



1. На данной ленте времени каждый отрезок между делениями соответствует одному веку. Отметьте на ленте времени черточками и подпишите следующие годы: 330 г. до н. э., 50 г. до н. э., 90 г. н. э.

**Рождение
Иисуса Христа**




2. На данной ленте времени каждый отрезок между делениями соответствует одному веку. Отметьте на ленте времени черточками и подпишите следующие годы: 110 г. до н. э., 510 г. н. э., 90 г. н. э.

**Константин объявил
христианскую религию
равноправной**




3. На данной ленте времени каждый отрезок между делениями соответствует одному веку. Отметьте на ленте времени черточками и подпишите следующие годы: 80 г. до н. э., 140 г. н. э. 470 г. н. э.

**Приход императора
Аврелиана к власти**




4. На данной ленте времени каждый отрезок между делениями соответствует одному веку. Отметьте на ленте времени черточками и подпишите следующие годы: 80 г. до н. э., 140 г. н. э., 470 г. н. э.

**Каракалла объявил всех
свободных жителей
римскими гражданами**




5. На данной ленте времени каждый отрезок между делениями соответствует одному веку. Отметьте на ленте времени черточками и подпишите следующие годы: 80 г. до н. э., 250 г. н. э., 420 г. н. э.

**Приход к власти
императора Траяна**




6. На данной ленте времени каждый отрезок между делениями соответствует одному веку. Отметьте на ленте времени черточками и подпишите следующие годы: 280 г. до н. э., 80 г. до н. э., 320 г. н. э.

**Приход к власти
императора Нерона**




7. На данной ленте времени каждый отрезок между делениями соответствует одному веку. Отметьте на ленте времени черточками и подпишите следующие годы: 420 г. до н. э., 200 г. до н. э., 250 г. н. э.

**Начало гражданской
войны между Цезарем и
Помпеем в Риме**




8. На данной ленте времени каждый отрезок между делениями соответствует одному веку. Отметьте на ленте времени черточками и подпишите следующие годы: 470 г. до н. э., 300 г. до н. э., 150 г. н. э.

**Осада римской
армией Карфагена**




9. На данной ленте времени каждый отрезок между делениями соответствует одному веку. Отметьте на ленте времени черточками и подпишите следующие годы: 520 г. до н. э., 350 г. до н. э., 90 г. н. э.

**Конец Второй
Пунической войны**




10. На данной ленте времени каждый отрезок между делениями соответствует одному веку. Отметьте на ленте времени черточками и подпишите следующие годы: 920 г. до н. э., 680 г. до н. э., 260 г. до н. э.

**Установление
Римской республики**




11. На данной ленте времени каждый отрезок между делениями соответствует одному веку. Отметьте на ленте времени черточками и подпишите следующие годы: 820 г. до н. э., 570 г. до н. э., 160 г. до н. э.

**Конец Пелопоннесской
войны**




12. На данной ленте времени каждый отрезок между делениями соответствует одному веку. Отметьте на ленте времени черточками и подпишите следующие годы: 820 г. до н. э., 560 г. до н. э., 210 г. до н. э.

Никиев мир




13. На данной ленте времени каждый отрезок между делениями соответствует одному веку. Отметьте на ленте времени черточками и подпишите следующие годы: 840 г. до н. э., 680 г. до н. э., 270 г. до н. э.

**Создание Афинского
морского союза**



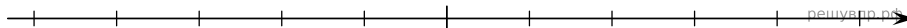
14. На данной ленте времени каждый отрезок между делениями соответствует одному веку. Отметьте на ленте времени черточками и подпишите следующие годы: 720 г. до н. э., 250 г. до н. э., 80 г. до н. э.

**Начало Греко-персидских
войн**




15. На данной ленте времени каждый отрезок между делениями соответствует одному веку. Отметьте на ленте времени черточками и подпишите следующие годы: 920 г. до н. э., 780 г. до н. э., 250 г. до н. э.

**Покорение Киром
Мидии**




16. На данной ленте времени каждый отрезок между делениями соответствует одному веку. Отметьте на ленте времени черточками и подпишите следующие годы: 540 г. до н. э., 360 г. до н. э., 10 г. до н. э.

**Цинь Шихуанди
объединил весь Китай**




17. На данной ленте времени каждый отрезок между делениями соответствует одному веку. Отметьте на ленте времени черточками и подпишите следующие годы: 880 г. до н. э., 410 г. до н. э., 260 г. до н. э.

**Крупное сражение на
Кархемише во главе с
царевичем Навуходоносором**




18. На данной ленте времени каждый отрезок между делениями соответствует одному веку. Отметьте на ленте времени черточками и подпишите следующие годы: 1750 г. до н. э., 1280 г. до н. э., 1000 г. до н. э.

**Начало правления
Тутмоса 3**



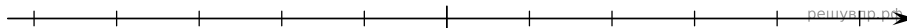
19. На данной ленте времени каждый отрезок между делениями соответствует одному веку. Отметьте на ленте времени черточками и подпишите следующие годы: 160 г. н. э., 350 г. н. э., 730 г. н. э.

**Падение Западной
Римской империи**




20. На данной ленте времени каждый отрезок между делениями соответствует одному веку. Отметьте на ленте времени черточками и подпишите следующие годы: 80 г. н. э., 250 г. н. э., 600 г. н. э.

**Раздел Римской
империи на две части**




21. На данной ленте времени каждый отрезок между делениями соответствует одному веку. Отметьте на ленте времени черточками и подпишите следующие годы: 20 г. до н. э., 150 г. н. э. 440 г. н. э.

**Приход императора
Диокла к власти**




22. На данной ленте времени каждый отрезок между делениями соответствует одному веку. Отметьте на ленте времени черточками и подпишите следующие годы: 320 г. до н. э., 140 г. н. э., 280 г. н. э.

**Заключение Триумvirата
между Крассом, Помпеем и
Цезарем**




23. На данной ленте времени каждый отрезок между делениями соответствует одному веку. Отметьте на ленте времени черточками и подпишите следующие годы: 540 г. до н. э., 280 г. до н. э., 130 г. н. э.

**Восстание
Спартака**



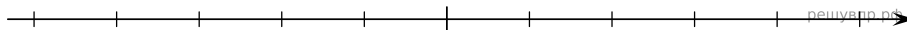
24. На данной ленте времени каждый отрезок между делениями соответствует одному веку. Отметьте на ленте времени черточками и подпишите следующие годы: 60 г. до н. э.; 150 г. н. э.; 325 г. н. э. 90 г. н. э.

**Рождение
Иисуса Христа**



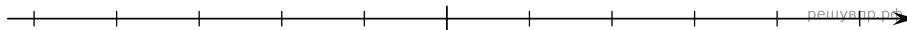
25. На данной ленте времени каждый отрезок между делениями соответствует одному веку. Отметьте на ленте времени черточками и подпишите следующие годы: 235 г. до н. э.; 90 г. до н. э.; 50 г. н. э.

**Рождение
Иисуса Христа**



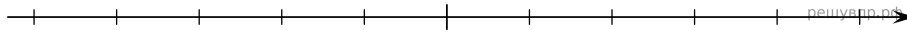
26. На данной ленте времени каждый отрезок между делениями соответствует одному веку. Отметьте на ленте времени черточками и подпишите следующие годы: 230 г. до н. э.; 30 г. до н. э.; 80 г. н. э.

**Рождение
Иисуса Христа**



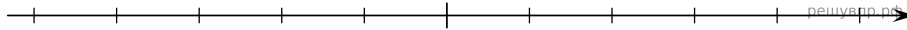
27. На данной ленте времени каждый отрезок между делениями соответствует одному веку. Отметьте на ленте времени черточками и подпишите следующие годы: 430 г. до н. э.; 150 г. до н. э.; 90 г. н. э.

**Рождение
Иисуса Христа**



28. На данной ленте времени каждый отрезок между делениями соответствует одному веку. Отметьте на ленте времени черточками и подпишите следующие годы: 200 г. до н. э.; 150 г. н. э.; 120 г. н. э.


**Рождение
Иисуса Христа**



29. На данной ленте времени каждый отрезок между делениями соответствует одному веку. Отметьте

на ленте времени чёрточками и подпишите следующие годы: 400 г. до н. э.; 80 г. до н. э.; 90 г. н. э.


**Рождение
Иисуса Христа**



30. На данной ленте времени каждый отрезок между делениями соответствует одному веку. Отметьте

на ленте времени чёрточками и подпишите следующие годы: 300 г. до н. э.; 230 г. до н. э.; 100 г. н. э.


**Рождение
Иисуса Христа**



31. На данной ленте времени каждый отрезок между делениями соответствует одному веку. Отметьте

на ленте времени чёрточками и подпишите следующие годы: 250 г. до н. э.; 310 г. до н. э.; 120 г. н. э.


**Рождение
Иисуса Христа**



32. На данной ленте времени каждый отрезок между делениями соответствует одному веку. Отметьте

на ленте времени чёрточками и подпишите следующие годы: 100 г. до н. э.; 450 г. н. э.; 230 г. н. э.


**Рождение
Иисуса Христа**



33. На данной ленте времени каждый отрезок между делениями соответствует одному веку. Отметьте

на ленте времени чёрточками и подпишите следующие годы: 450 г. до н. э.; 200 г. до н. э.; 270 г. н. э.

**Рождение
Иисуса Христа**



34. На данной ленте времени каждый отрезок между делениями соответствует одному веку. Отметьте

на ленте времени чёрточками и подпишите следующие годы: 200 г. до н. э.; 390 г. до н. э.; 200 г. н. э.

**Рождение
Иисуса Христа**

